

CAIETUL ELEVULUI

CLASA
A VII-A

CORINT
BOOKS

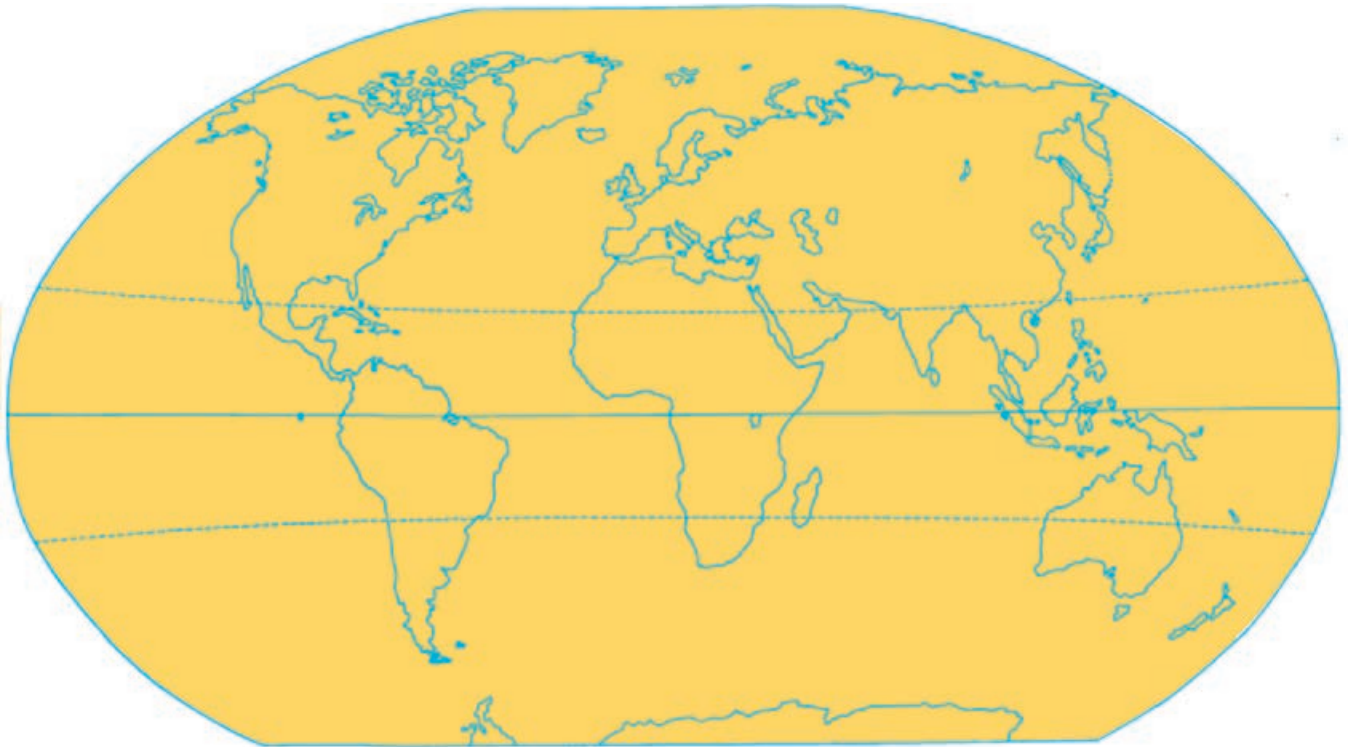


Octavian Mândruț

GEOGRAFIA CONTINENTELOR EXTRAEUROPENE

1. ASIA – CARACTERISTICI GENERALE

1.1. POZIȚIA GEOGRAFICĂ, LIMITELE, ÎNTINDEREA



Urmăriți planiglobul de mai sus.

● Localizați și notați pe acesta numele continentului Asia.

● Notați ce continent sau ocean se află față de Asia:

în nord: _____; în sud: _____;

în vest: _____; în est: _____.

● Precizați spre ce punct cardinal este situat continentul Asia față de:

Oceanul Pacific: _____; Africa: _____;

Oceanul Indian: _____; Europa: _____.

● Comentați poziția Asiei față de America de Sud:

● Comentați poziția Australiei în raport cu Asia:

Urmăriți harta politică a Asiei (din atlas sau din manual) și notați în ce parte a continentului se află:

Federația Rusă: _____; China: _____;

India: _____; Indonezia: _____;

Turcia: _____; Japonia: _____.

Acum notați, față de China, în ce parte se află:

India: _____; Japonia: _____;

Mongolia: _____; Turcia: _____.

Notați unde se află față de India:

China: _____; Indonezia: _____;

Federația Rusă: _____; Oceanul Indian: _____.

Urmăriți pe un planiglob meridianul de 100° longitudine estică și notați ce țări întâlniți, succesiv, de la nord la sud:

Urmăriți Tropicul de Nord și notați ce țări întâlniți, succesiv, de la est la vest:

Urmăriți un planiglob (din atlas sau din manual) și completați tabelul de mai jos:

	Mări	Peninsule	Insule	Golfuri
Oceanul Arctic				
Oceanul Indian				
Oceanul Pacific				

Citiți următorul text:

„În partea de sud, prin arhipelagul indonezian (insula Roti), Asia se întinde și la sud de Ecuator; în partea opusă, punctul cel mai îndepărtat îl reprezintă Capul Celeuskin; în partea de est (Capul Dejnev), depășește meridianul de 180° longitudine estică, iar în partea opusă (vest) Asia Mică se termină la Capul Baba; distanțele nord-sud și vest-est sunt de aproximativ 10 000 km (ceea ce reprezintă $\frac{1}{4}$ din lungimea Ecuatorului).”

Pe baza acestui text, precizați:

● dacă Asia este situată în toate cele patru emisfere:

● suprafața pătratului cu latura de 7 000 km:

● raportul dintre suprafața Asiei și a acestui pătrat:

Precizați punctele extreme ale Asiei în:

a) nord: _____;

b) vest: _____;

c) est: _____;

d) sud: _____.

1.3. CLIMA

Precizați, pe scurt, cinci factori care determină clima Asiei.

- _____
- _____
- _____
- _____
- _____

Realizați un mic comentariu, utilizând hărțile din manual sau din atlas, asupra:

- Temperaturii medii în luna ianuarie: _____

- Temperaturii medii în luna iulie: _____

Utilizați harta din manual sau din atlas și precizați pe scurt repartiția geografică a precipitațiilor medii anuale, astfel:

- precipitații peste 2 000 mm/an: _____

- precipitații sub 200 mm/an: _____

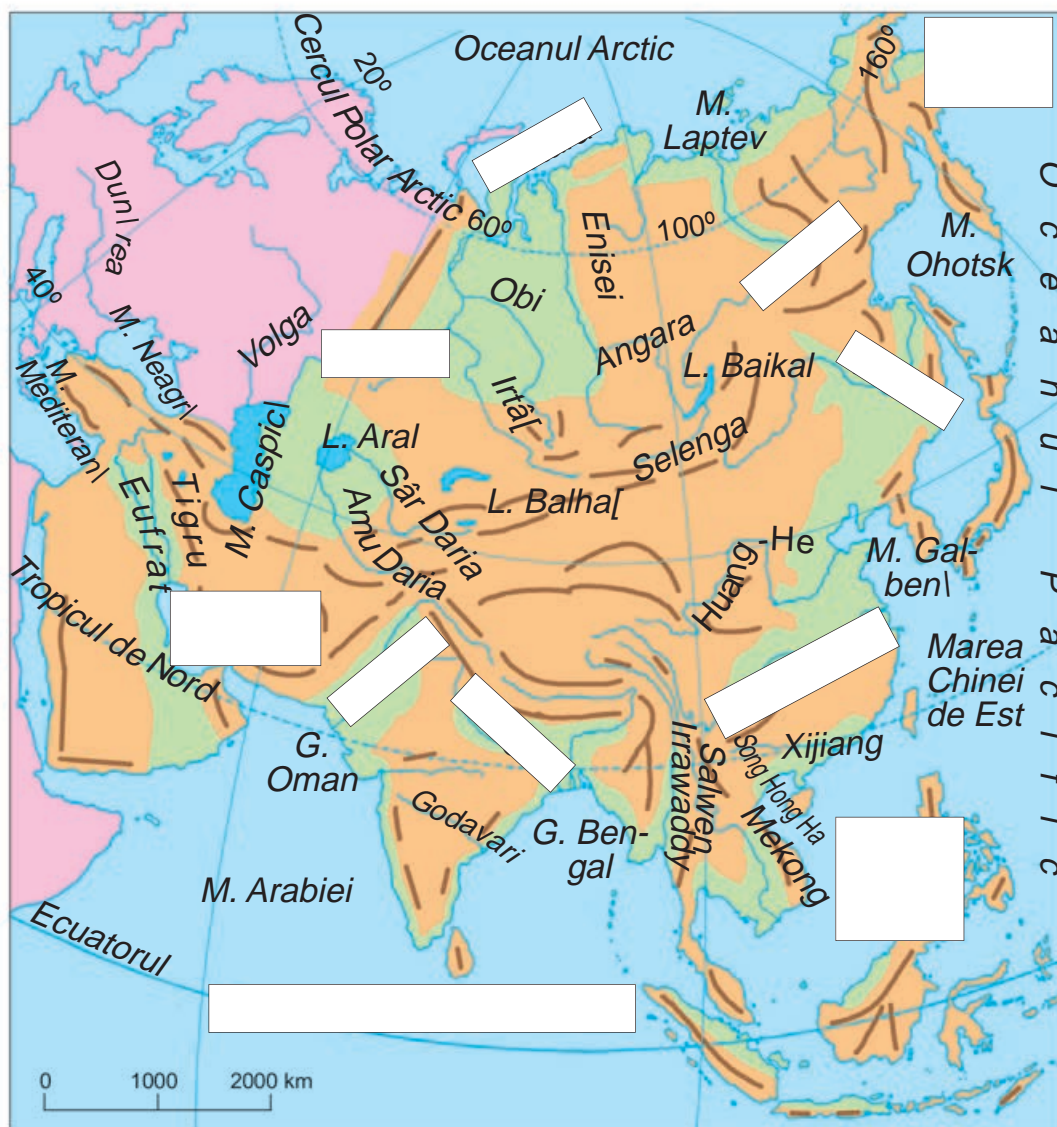
- precipitații între 200–500 mm/an: _____

Urmăriți hărțile din manual și din atlas și descrieți pe scurt, completând tabelul de mai jos, un tip de climat, la alegere dintre: climatul deșertic, climatul polar (arctic), climatul musonic, climatul temperat continental.

Tipul de climat	
Localizare	
Temperatura a) medie anuală	
b) în luna ianuarie	
c) în luna iulie	
Precipitațiile medii anuale	
Vânturi predominante	
Regiuni caracteristice	

1.4. HIDROGRAFIA

Urmăriți harta din manual sau din atlas și harta de mai jos, apoi completați denumirile fluviilor, ale mărilor sau ale oceanelor care lipsesc.



Grupați fluviile reprezentate pe hartă pe bazinele oceanice de mai jos:

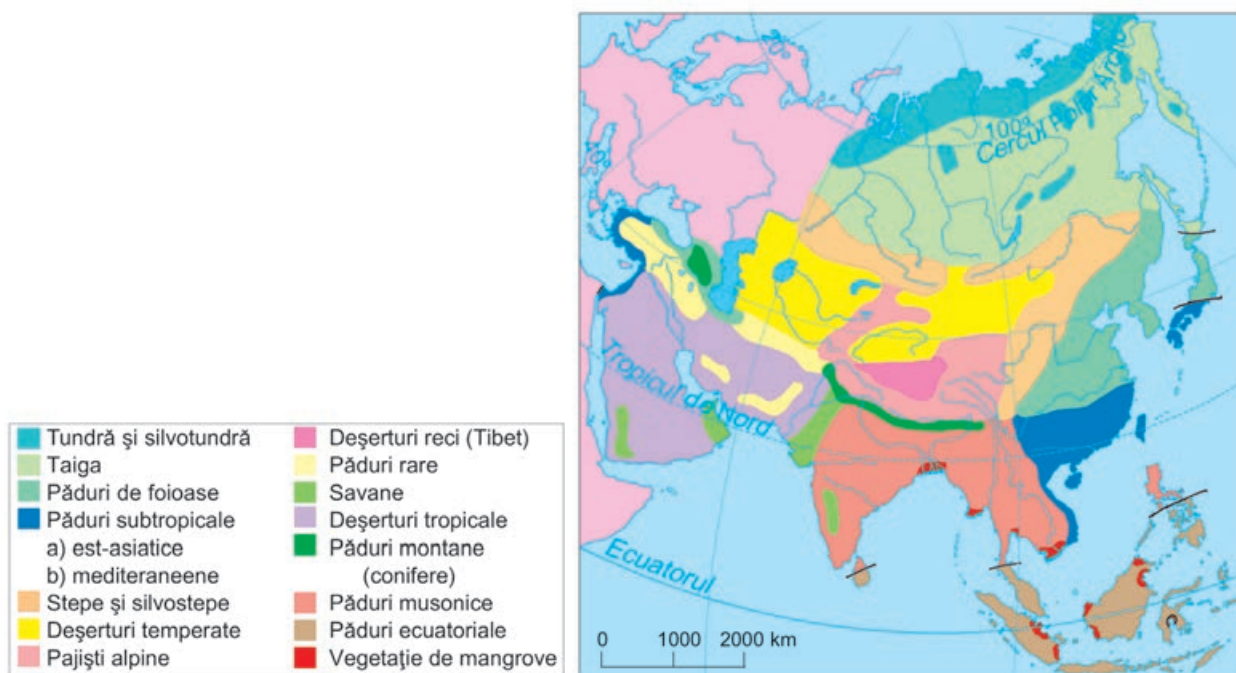
- Oceanul Arctic: _____ ;
- Oceanul Pacific: _____ ;
- Oceanul Indian: _____ .

Precizați, pe scurt, ce constatați: _____

1.5. VEGETAȚIA, FAUNA ȘI SOLURILE

Urmărind harta de mai jos, hărțile din atlas și alte surse de informare, descrieți, pe scurt, trei tipuri de vegetație, la alegere, precizând:

- Tipul de vegetație naturală: _____
- Localizarea: _____
- Plante caracteristice: _____
- Animale specifice: _____
- Soluri reprezentative: _____
- Regiuni caracteristice: _____



1.6. ACTIVITATE INDEPENDENTĂ

a) Alegeți o unitate de relief dintre următoarele: Munții Himalaya, Podișul Tibet, Podișul Siberiei Centrale, Podișul Arabiei, Câmpia Gangelui, Podișul Pamir, Câmpia Chinei de Est, Câmpia Mesopotamiei.

b) Utilizați hărțile de până acum, atlasul, precum și alte surse și notați:

- Numele unității de relief: _____
- Poziția în cadrul Asiei: _____
- Unități de relief învecinate: _____
- Climatul predominant: _____
- Caracteristici ale climei: _____
- Elemente de hidrografie (fluviu, lac, golf) : _____
- Vegetația specifică: _____
- Animale caracteristice: _____
- Alte aspecte specifice (soluri, peisaj): _____

1.7. POPULAȚIA

Completați tabelul de mai jos:

A.	Populația mondială (2017)	7,3 mld. loc.
B.	Populația Asiei (2017)	4,2 mld. loc.
C.	Raportul B/A (cu aproximație)	

Comentați, pe scurt, acest raport: _____

Urmăriți harta de mai jos. Pe aceasta sunt reprezentate regiunile cu o concentrare mare a populației (peste 200 loc./km²), cele cu o concentrare mijlocie și cele unde populația este foarte rară (sub 1 loc./km²).



Pe baza acestei hărți, a manualului și a atlasului, precizați numele regiunilor reprezentate (A, B, C, D, E), gradul de concentrare a populației fiecărei regiuni și o cauză principală a acestuia.

- A.
- _____
 - _____
 - _____
- B.
- _____
 - _____
 - _____
- C.
- _____
 - _____
 - _____
- D.
- _____
 - _____
 - _____
- E.
- _____
 - _____
 - _____

Densitatea medie a populației Asiei este de 100 loc./km², iar densitatea medie a populației mondiale este de 50 loc./km²; explicați această constatare.

1.8. ORAȘELE

Notați mai jos, pe baza informațiilor din manual, a atlasului și a altor surse de informare, orașe asiatice:

a) existente în Antichitate: _____

b) existente în Evul Mediu: _____

c) cele actuale, cu cel mai mare număr de locuitori (peste 5 mil. loc.): _____

Urmăriți harta alăturată și notați în locurile libere denumirile orașelor care lipsesc.

Numărul de locuitori are un caracter orientativ.



Completați tabelul de mai jos cu numele unor orașe reprezentate pe hartă, conform cerințelor.

Statul	Populația (loc.)	Orașe		
		Peste 10 mil. loc.	5–10 mil. loc.	1–5 mil. loc.
China	1 374 300 000			
India	1 311 000 000			
Indonezia	258 000 000			
Pakistan	189 000 000			
Bangladesh	160 000 000			
Japonia	127 000 000			
Filipine	101 000 000			
Vietnam	91 000 000			
Iran	79 000 000			
Turcia	79 000 000			
Thailanda	67 000 000			

1.9. RESURSELE NATURALE ȘI ECONOMIA

Urmăriți harta din manual sau din atlas și menționați unde sunt localizate principalele resurse ale Asiei, astfel:

- petrol: _____
- cărbuni: _____
- minereuri feroase: _____
- diamante: _____
- uraniu: _____
- staniu: _____

Urmăriți harta alăturată și notați denumirile concentrațiilor industriale care lipsesc.

Precizați denumirile unor concentrații industriale din India și China:

- a) India: _____
- b) China: _____



Urmăriți harta de mai jos și notați, pe scurt, denumirea regiunilor reprezentate, condițiile naturale și culturile agricole predominante pentru regiunile marcate cu:

1. _____

2. _____

3. _____

4. _____



CUPRINS

CUVÂNT-ÎNAINTE	3	1.3. POPULAȚIA ȘI AȘEZĂRILE OMENEȘTI	52
GEOGRAFIA CONTINENTELOR EXTRAEUROPENE. CONȚINUTURI OBLIGATORII (EXTRASE DIN PROGRAMĂ ȘCOLARĂ)	5	1.4. RESURSELE NATURALE ȘI ECONOMIA	52
CONTINENTELE – PRIVIRE DE ÎNTREG	7	1.5. HARTA POLITICĂ	53
CAPITOLUL I – ASIA	11	1.6. REPUBLICA AFRICA DE SUD ȘI EGIPT (PRIVIRE COMPARATIVĂ).	55
1. ASIA – CARACTERISTICI GENERALE.	11	EVALUARE SECVENȚIALĂ (AFRICA)	56
1.1. POZIȚIA GEOGRAFICĂ, LIMITELE, ÎNTINDEREA	11	CAPITOLUL III – AMERICA	57
1.2. RELIEFUL (TREPTE ȘI UNITĂȚI DE RELIEF)	13	1. AMERICA – PREZENTARE GEOGRAFICĂ GENERALĂ.	57
1.3. CLIMA	15	1.1. POZIȚIA GEOGRAFICĂ, LIMITELE, ÎNTINDEREA	57
1.4. HIDROGRAFIA	16	1.2. CARACTERISTICILE FIZICO-GEOGRAFICE	57
1.5. VEGETAȚIA, FAUNA ȘI SOLURILE	17	A. RELIEFUL	57
1.6. ACTIVITATE INDEPENDENTĂ.	17	B. CLIMA	59
1.7. POPULAȚIA	18	C. HIDROGRAFIA	59
1.8. ORAȘELE	19	D. VEGETAȚIA ȘI FAUNA	60
1.9. RESURSELE NATURALE ȘI ECONOMIA	20	E. REGIUNI NATURALE	60
EVALUARE	21	1.3. POPULAȚIA ȘI AȘEZĂRILE OMENEȘTI	61
2. ASIA – REGIUNI ȘI ȚĂRI	23	1.4. RESURSELE NATURALE ȘI ECONOMIA	62
2.1. ASIA DE VEST ȘI DE SUD-VEST – SPECIFICUL GEOGRAFIC	23	2. AMERICA – REGIUNI ȘI ȚĂRI	63
2.1.1. Israel.	25	2.1. AMERICA DE NORD ȘI CENTRALĂ – SPECIFICUL GEOGRAFIC	63
2.1.2. Turcia	27	2.1.1. Statele Unite ale Americii	65
2.1.3. Alte state	29	A. Geografie fizică.	65
2.1.4. Activitate independentă	30	B. Populație și așezări	66
2.2. ASIA DE SUD – SPECIFICUL GEOGRAFIC	31	C. Economie	67
2.2.1. India	33	2.1.2. Canada	69
2.2.2. Activitate independentă	35	2.1.3. Mexic	70
2.3. ASIA DE EST ȘI DE SUD-EST – SPECIFICUL GEOGRAFIC	36	2.2. AMERICA DE SUD – SPECIFICUL GEOGRAFIC	71
2.3.1. Japonia	38	2.2.1. Brazilia	73
2.3.2. China	40	2.2.2. Argentina, Peru, Columbia (Activitate independentă).	74
A. Geografie fizică.	40	EVALUARE SECVENȚIALĂ (AMERICA)	75
B. Geografie umană.	42	CAPITOLUL IV – AUSTRALIA, OCEANIA ȘI ANTARCTICA	77
2.3.3. Alte state	44	1. AUSTRALIA – CARACTERISTICI GEOGRAFICE	77
2.3.4. Activitate independentă	46	2. OCEANIA	78
EVALUARE SUMATIVĂ (SEM. I). ASIA – CARACTERISTICI GENERALE, REGIONALE ȘI ȚĂRI.	47	LUCRARE INDEPENDENTĂ. NOUA ZEELANDĂ ȘI ROMÂNIA – O COMPARAȚIE GEOGRAFICĂ	79
CAPITOLUL II – AFRICA	49	3. ANTARCTICA	80
1. AFRICA – PREZENTARE GEOGRAFICĂ GENERALĂ.	49	EVALUARE SUMATIVĂ (SEM. II). AMERICA, AUSTRALIA, OCEANIA, ANTARCTICA	81
1.1. POZIȚIA GEOGRAFICĂ, LIMITELE, ÎNTINDEREA	49	CONTINENTELE – RECAPITULARE ȘI SINTEZĂ. ACTIVITATE INDEPENDENTĂ	84
1.2. CARACTERISTICI FIZICO-GEOGRAFICE		EVALUARE FINALĂ – GEOGRAFIA CONTINENTELOR.	86
A. RELIEFUL	50	(EUROPA ȘI CONTINENTELE EXTRAEUROPENE)	86
B. CLIMA, HIDROGRAFIA, VEGETAȚIA ȘI FAUNA.	51		